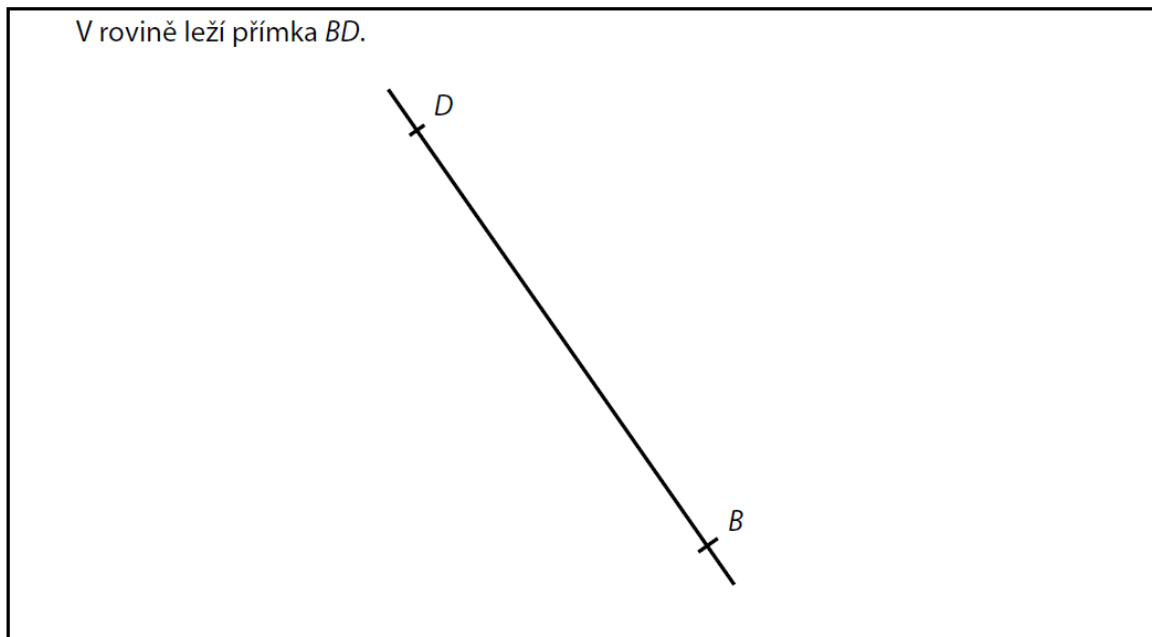


VÝCHOZÍ TEXT A OBRÁZEK K ÚLOZE 10

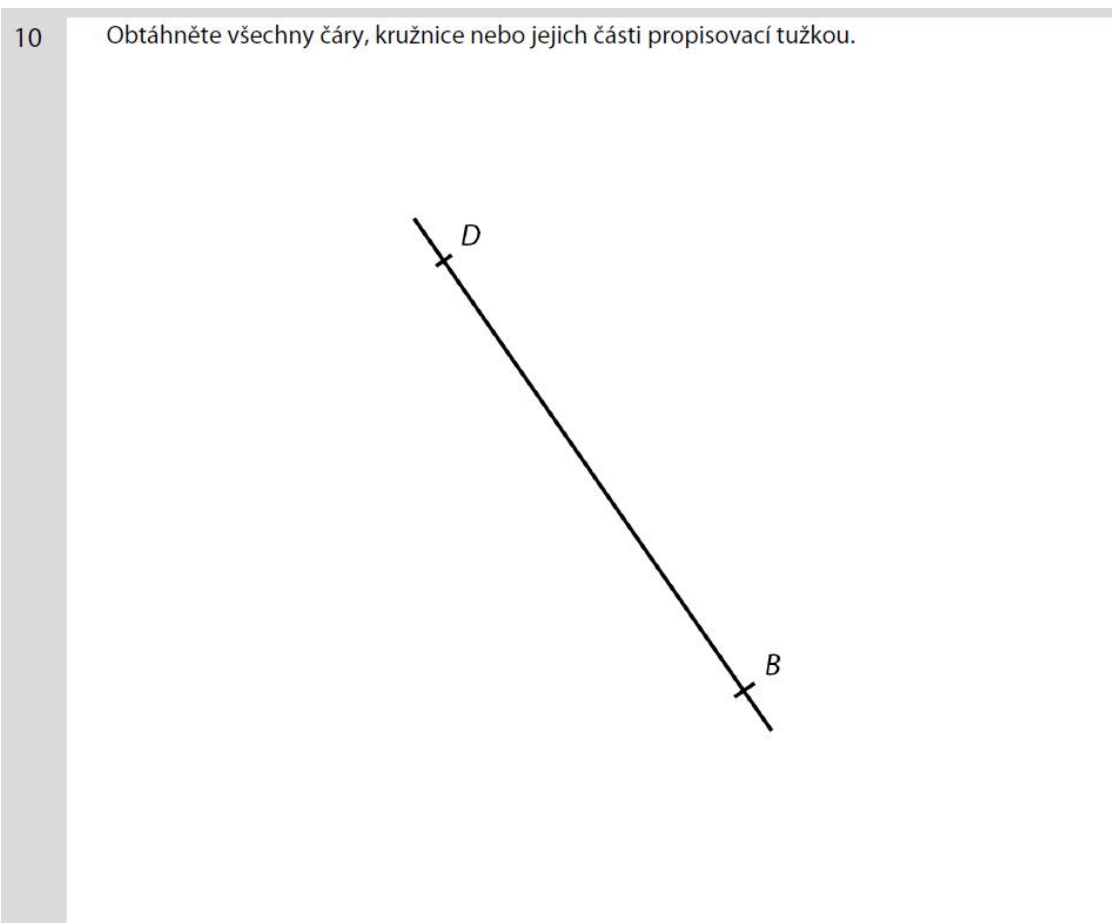
Doporučení: Rýsujte přímo do záznamového archu.



max. 2 body

10 Sestrojte chybějící vrcholy A, C čtverce $ABCD$. Čtverec **narýsujte**.

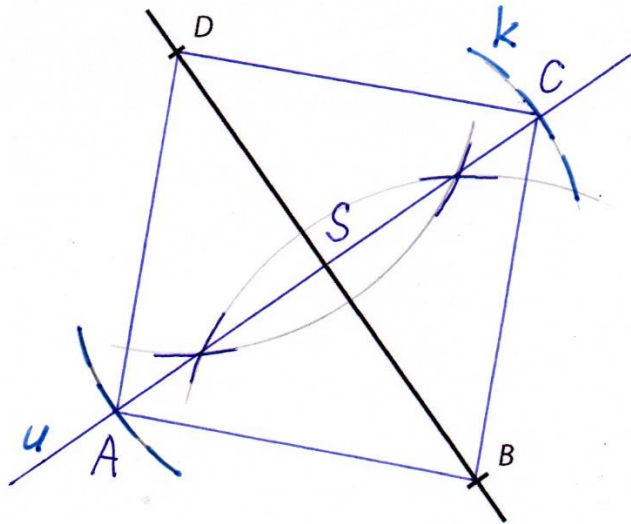
V záznamovém archu obtáhněte všechny čáry, kružnice nebo jejich části **propisovací tužkou**.



Řešení 10

10

Obtáhněte všechny čáry, kružnice nebo jejich části propisovací tužkou.



Postup

Postup 10

1) S ; $S = \frac{B+D}{2}$... střed úsečky BD 2) u ; $u \perp BD$, $S \in u$ 3) k ; $k(S; r = |SD|)$ 4) A, C ; $A, C \in u \cap k$ 5) čtverec $ABCD$

Diskuse

1 řešení